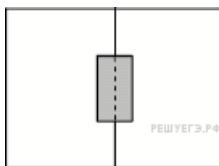


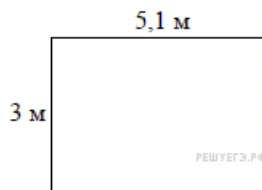
## Многоугольники

1. Участок земли для строительства санатория имеет форму прямоугольника, стороны которого равны 900 м и 400 м. Одна из больших сторон участка идёт вдоль моря, а три остальные стороны нужно отгородить забором. Найдите длину этого забора. Ответ дайте в метрах.

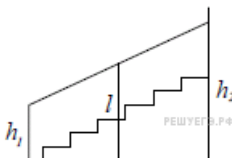
2. Два садовода, имеющие прямоугольные участки размерами 35 м на 40 м с общей границей, договорились и сделали общий прямоугольный пруд размером 20 м на 14 м (см. чертёж), причём граница участков проходит точно через центр. Какова площадь (в квадратных метрах) оставшейся части участка каждого садовода?



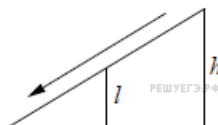
3. На плане указано, что прямоугольная комната имеет площадь 15,2 кв.м. Точные измерения показали, что ширина комнаты равна 3 м, а длина 5,1 м. На сколько квадратных метров площадь комнаты отличается от значения, указанного в плане?



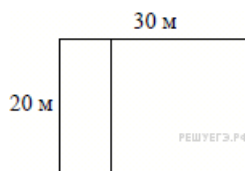
4. Перила лестницы дачного дома для надёжности укреплены посередине вертикальным столбом. Найдите высоту  $l$  этого столба, если наименьшая высота  $h_1$  перил относительно земли равна 1,5 м, а наибольшая  $h_2$  равна 2,5 м. Ответ дайте в метрах.



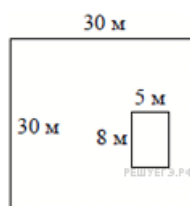
5. Детская горка укреплена вертикальным столбом, расположенным посередине спуска. Найдите высоту  $l$  этого столба, если высота  $h$  горки равна 3 метрам. Ответ дайте в метрах.



6. Дачный участок имеет форму прямоугольника со сторонами 20 метров и 30 метров. Хозяин планирует обнести его забором и разделить таким же забором на две части, одна из которых имеет форму квадрата. Найдите общую длину забора в метрах.



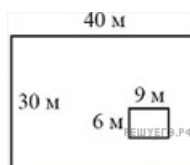
7. Дачный участок имеет форму квадрата, стороны которого равны 30 м. Размеры дома, расположенного на участке и имеющего форму прямоугольника, — 8 м × 5 м. Найдите площадь оставшейся части участка. Ответ дайте в квадратных метрах.



8. Участок земли имеет прямоугольную форму. Стороны прямоугольника 25 м и 70 м. Найдите длину забора (в метрах), которым нужно огородить участок, если в заборе нужно предусмотреть ворота шириной 4 м.



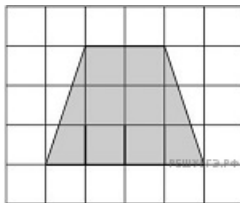
9. Дачный участок имеет форму прямоугольника, стороны которого равны 40 м и 30 м. Размеры дома, расположенного на участке и также имеющего форму прямоугольника, — 9 м × 6 м. Найдите площадь оставшейся части участка. Ответ дайте в квадратных метрах.



10. Колесо имеет 5 спиц. Найдите величину угла (в градусах), который образуют две соседние спицы.



11. План местности разбит на клетки. Каждая клетка обозначает квадрат  $10\text{ м} \times 10\text{ м}$ . Найдите площадь участка, изображённого на плане. Ответ дайте в  $\text{м}^2$ .

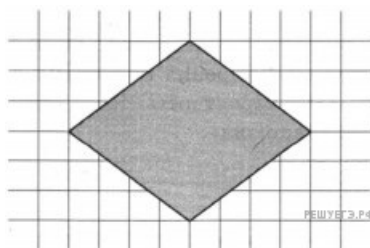


12. Квартира состоит из комнаты, кухни, коридора и санузла. Кухня имеет размеры 3 м на 3,5 м, санузел — 1 на 1,5 м, длина коридора — 5,5 м. Найдите площадь комнаты. Ответ запишите в квадратных метрах.

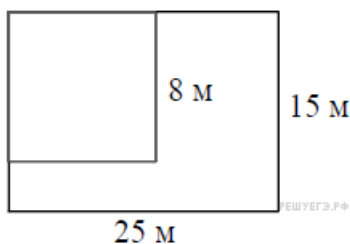


13. Электрику ростом 1,8 метра нужно поменять лампочку, закреплённую на стене дома на высоте 4,2 м. Для этого у него есть лестница длиной 3 метра. На каком наибольшем расстоянии от стены должен быть установлен нижний конец лестницы, чтобы с последней ступеньки электрик дотянулся до лампочки? Ответ запишите в метрах.

14. План местности разбит на клетки. Каждая клетка обозначает квадрат  $10\text{ м} \times 10\text{ м}$ . Найдите площадь участка, изображённого на плане. Ответ дайте в  $\text{м}^2$ .



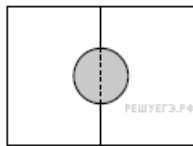
15. Дачный участок имеет форму прямоугольника со сторонами 25 метров и 15 метров. Хозяин планирует обнести его изгородью и отгородить такой же изгородью квадратный участок со стороной 8 м (см. рис.). Найдите суммарную длину изгороди в метрах.



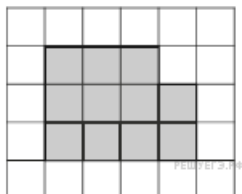
16. Какой наименьший угол (в градусах) образуют минутная и часовая стрелки часов в 16:00 ?



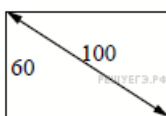
17. Два садовода, имеющие прямоугольные участки размерами 20 м на 30 м с общей границей, договорились и сделали общий круглый пруд площадью 140 квадратных метров (см. чертёж), причём граница участков проходит точно через центр пруда. Какова площадь (в квадратных метрах) оставшейся части участка каждого садовода?



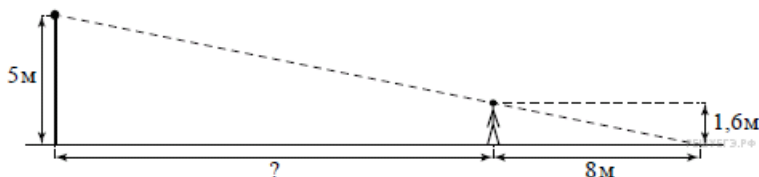
18. План местности разбит на клетки. Каждая клетка обозначает квадрат 1 м × 1 м. Найдите площадь участка, выделенного на плане. Ответ дайте в квадратных метрах.



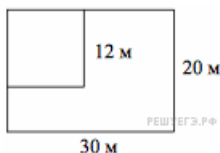
19. Диагональ прямоугольного телевизионного экрана равна 100 см, а высота экрана — 60 см. Найдите ширину экрана. Ответ дайте в сантиметрах.



20. На каком расстоянии (в метрах) от фонаря стоит человек ростом 1,6 м, если длина его тени равна 8 м, высота фонаря 5 м?



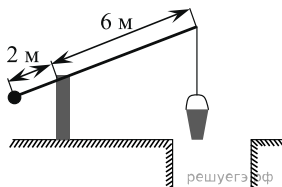
21. Дачный участок имеет форму прямоугольника со сторонами 30 метров и 20 метров. Хозяин отгородил на участке квадратный вольер со стороной 12 метров (см. рис.). Найдите площадь оставшейся части участка. Ответ дайте в квадратных метрах.



22. Масштаб карты такой, что в одном сантиметре 12 км. Чему равно расстояние между городами А и В (в км), если на карте оно составляет 4 см?

23.

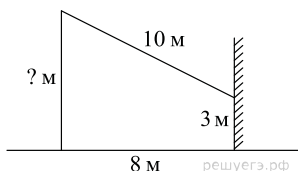
На рисунке изображён колодец с «журавлём». Короткое плечо имеет длину 2 м, а длинное плечо — 6 м. На сколько метров опустится конец длинного плеча, когда конец короткого поднимется на 0,5 м?



24. Пол в комнате, имеющей форму прямоугольника со сторонами 4 м и 10 м, требуется покрыть паркетом из прямоугольных дощечек со сторонами 5 см и 20 см. Сколько потребуется таких дощечек?

25.

От столба к дому натянута проволока длиной 10 м, который закреплён на стене дома на высоте 3 м от земли (см. рисунок). Найдите высоту столба, если расстояние от дома до столба равно 8 м. Ответ дайте в метрах.



26. На каком расстоянии (в метрах) от фонаря стоит человек ростом 1,8 м, если длина его тени равна 1 м, а высота фонаря равна 9 м?

